

ŽUPANIJSKO NATJECANJE IZ MATEMATIKE  
23. veljače 2016.

8. razred-rješenja

OVDJE SU DANI NEKI NAČINI RJEŠAVANJA ZADATAKA. UKOLIKO UČENIK IMA DRUGAČIJI POSTUPAK RJEŠAVANJA, ČLAN POVJERENSTVA DUŽAN JE I TAJ POSTUPAK BODOVATI I OCIJENITI NA ODGOVARAJUĆI NAČIN.

1. Prvi način:

$$\frac{5n^2 - 9}{2n + 6} = \frac{5n^2 - 45 + 36}{2(n+3)} = \frac{5(n^2 - 9) + 36}{2(n+3)} = \frac{5(n-3)(n+3)}{2(n+3)} + \frac{36}{2(n+3)} = \frac{5(n-3)}{2} + \frac{18}{n+3} \quad 4 \text{ BODA}$$

Da bi vrijednost tog razlomka bila cijeli broj mora biti:

a)  $n - 3$  paran broj, odnosno  $n$  neparan broj, 1 BOD

b)  $n + 3 \in \{1, -1, 2, -2, 3, -3, 6, -6, 9, -9, 18, -18\}$ . 1 BOD

Kako je  $n$  neparan, onda je  $n + 3$  paran broj pa je  $n + 3 \in \{2, -2, 6, -6, 18, -18\}$ . 2 BODA

Sada je  $n \in \{-1, -5, 3, -9, 15, -21\}$ . 2 BODA

..... UKUPNO 10 BODOVA

**Napomena:** Svako pogodeno rješenje bez obrazloženja vrijedi po 1 bod.

Drugi način:

$$\begin{aligned} \frac{5n^2 - 9}{2n + 6} &= \frac{5\left(n^2 - \frac{9}{5}\right)}{2(n+3)} = \frac{5}{2} \left[ \frac{n(n+3) - 3n - \frac{9}{5}}{(n+3)} \right] = \\ &= \frac{5}{2} \left[ n - \frac{3n + \frac{9}{5}}{n+3} \right] = \frac{5}{2} \left[ n - \frac{3(n+3) - 9 + \frac{9}{5}}{n+3} \right] = \\ &= \frac{5}{2} \left[ n - 3 + \frac{\frac{36}{5}}{n+3} \right] = \frac{5}{2}(n-3) + \frac{5}{2} \cdot \frac{36}{5(n+3)} = \\ &= \frac{5}{2}(n-3) + \frac{18}{n+3} \end{aligned} \quad 4 \text{ BODA}$$

Da bi vrijednost tog razlomka bila cijeli broj mora biti:

a)  $n - 3$  paran broj, odnosno  $n$  neparan broj, 1 BOD

b)  $n + 3 \in \{1, -1, 2, -2, 3, -3, 6, -6, 9, -9, 18, -18\}$ . 1 BOD

Kako je  $n$  neparan, onda je  $n + 3$  paran broj pa je  $n + 3 \in \{2, -2, 6, -6, 18, -18\}$ . 2 BODA

Sada je  $n \in \{-1, -5, 3, -9, 15, -21\}$ .

2 BODA

..... UKUPNO 10 BODOVA

**Napomena:** Svako pogodeno rješenje bez obrazloženja vrijedi po 1 bod.

2. Prvi način:

Ako je prvi broj  $x$ , onda se drugi može prikazati kao  $10 - x$ , a uvjet zadatka daje:

$$x^2 : (10 - x)^2 = 1 : 16.$$

2 BODA

Dalje slijedi:  $16x^2 = (10 - x)^2$

$$16x^2 = 100 - 20x + x^2$$

$$15x^2 + 20x - 100 = 0 \quad / : 5$$

$$3x^2 + 4x - 20 = 0$$

2 BODA

Ovu kvadratnu jednadžbu riješimo rastavljanjem srednjeg člana:

$$3x^2 - 6x + 10x - 20 = 0$$

$$3x \cdot (x - 2) + 10 \cdot (x - 2) = 0$$

$$(x - 2) \cdot (3x + 10) = 0$$

2 BODA

Iz  $x - 2 = 0$  je rješenje  $x_1 = 2$ , a iz  $3x + 10 = 0$  je rješenje  $x_2 = -\frac{10}{3}$ .

2 BODA

Još se izračuna  $10 - 2 = 8$  odnosno  $10 - \left(-\frac{10}{3}\right) = \frac{40}{3}$ .

1 BOD

Konačno,  $10 = 2 + 8$  i  $10 = -\frac{10}{3} + \frac{40}{3}$ .

1 BOD

..... UKUPNO 10 BODOVA

Drugi način:

Ako je prvi broj  $x$ , onda se drugi može prikazati kao  $10 - x$ , a uvjet zadatka daje:

$$x^2 : (10 - x)^2 = 1 : 16.$$

2 BODA

Dalje slijedi  $(x : (10 - x))^2 = (1 : 4)^2$

2 BODA

pa je  $\frac{x}{10 - x} = \frac{1}{4}$  ili  $\frac{x}{10 - x} = -\frac{1}{4}$ .

2 BODA

Prva mogućnost daje  $4x = 10 - x$  te je rješenje  $x_1 = 2$ , a druga mogućnost daje  $4x = -10 + x$

te je rješenje  $x_2 = -\frac{10}{3}$ .

2 BODA

Još se izračuna  $10 - 2 = 8$  odnosno  $10 - \left(-\frac{10}{3}\right) = \frac{40}{3}$ .

1 BOD

Konačno,  $10 = 2 + 8$  i  $10 = -\frac{10}{3} + \frac{40}{3}$ .

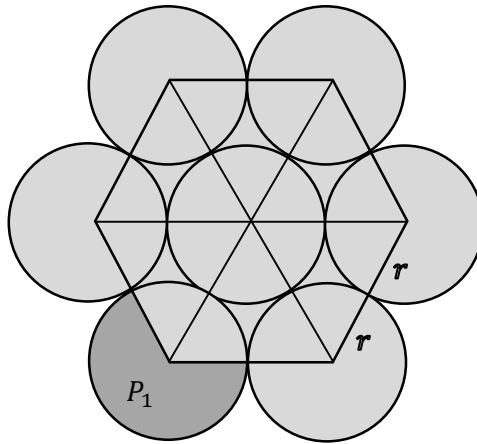
1 BOD

..... UKUPNO 10 BODOVA

3. Prvi način:

Skica:

1 BOD



Spojimo li središta vanjskih 6 krugova, dobit ćemo pravilni šesterokut stranice  $a = 2r$ .

1 BOD

Površina tog šesterokuta jednaka je šesterostrukoj površini jednakostraničnog trokuta stranice

$$a = 2r \text{ odnosno } P_{\text{šesterokuta}} = 6 \cdot P_{\Delta} = 6 \cdot \frac{(2r)^2 \sqrt{3}}{4} = 6r^2 \sqrt{3}.$$

3 BODA

Preostala površina sastoji se od šest jednakih kružnih isječaka s pripadnim središnjim kutom  $240^\circ$ .

Svaki od njih ima površinu jednaku  $\frac{2}{3}$  površine cijelog kruga. Dakle,  $P_1 = \frac{2}{3} \cdot r^2 \pi$ .

3 BODA

Prema tome, osjenčani lik ima površinu

$$P = P_{\text{šesterokuta}} + 6P_1 = 6r^2 \sqrt{3} + 6 \cdot \frac{2}{3} \cdot r^2 \pi = 6r^2 \sqrt{3} + 4r^2 \pi.$$

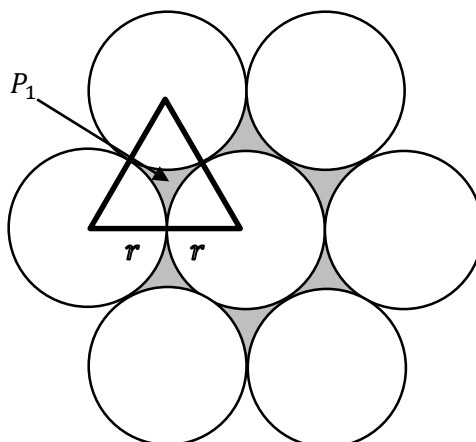
2 BODA

..... UKUPNO 10 BODOVA

Drugi način:

Skica:

1 BOD



Lik se sastoji od 7 jednakih krugova površine  $P_{\text{kruga}} = r^2 \pi$  i šest jednakih (nepravilnih) dijelova površine  $P_1$  (vidi sliku).

1 BOD

Površina nepravilnog lika  $P_1$  može se izračunati kao površina jednakostraničnog trokuta stranice  $2r$  umanjena za površinu tri jednaka kružna isječka središnjeg kuta  $60^\circ$ , točnije, za tri šestine površine kruga polumjera  $r$ .

2 BODA

Površina jednakostraničnog trokuta je  $P_{\Delta} = \frac{(2r)^2 \sqrt{3}}{4} = r^2 \sqrt{3}$ .

2 BODA

Dakle,  $P_1 = P_{\Delta} - \frac{1}{2} P_{\text{kruga}} = r^2 \sqrt{3} - \frac{r^2 \pi}{2}$ .

2 BODA

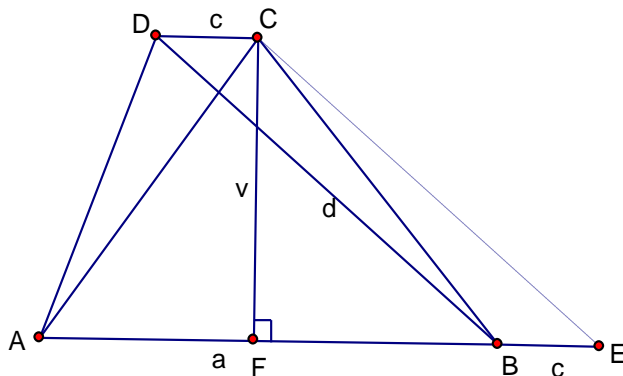
Prema tome, osjenčani lik ima površinu

$$P = 7P_{\text{kruga}} + 6P_1 = 7r^2 \pi + 6 \cdot \left( r^2 \sqrt{3} - \frac{r^2 \pi}{2} \right) = 7r^2 \pi + 6r^2 \sqrt{3} - 3r^2 \pi = 6r^2 \sqrt{3} + 4r^2 \pi .$$

2 BODA

..... UKUPNO 10 BODOVA

4. Prvi način:



Skica:

1 BOD

Zadana se jednađzba može zapisati u obliku  $d^2 - 30d + v^2 - 24v + 369 = 0$

odnosno nadopunom na potpuni kvadrat  $(d - 15)^2 - 225 + (v - 12)^2 - 144 + 369 = 0$

i konačno  $(d - 15)^2 + (v - 12)^2 = 0$ .

2 BODA

Lijeva strana jednađzbe jednaka je 0 ako je  $d - 15 = 0$  i  $v - 12 = 0$ .

1 BOD

Iz  $d - 15 = 0$  slijedi da je  $d = 15$  cm, a

iz  $v - 12 = 0$  slijedi da je  $v = 12$  cm.

1 BOD

Na produžetku stranice  $\overline{AB}$  preko vrha  $B$  odaberimo točku  $E$  tako da je  $d(B,E) = d(C,D)$ .

Tada je  $d(A,E) = a + c$ .

Četverokut  $BECD$  je paralelogram pa je  $d(C,E) = d = 15$  cm.

1 BOD

Iz pravokutnog trokuta  $\triangle AFC$  dobiva se  $d(A,F) = \sqrt{13^2 - 12^2} = 5$  cm, a

iz pravokutnog trokuta  $\triangle CFE$   $d(F,E) = \sqrt{15^2 - 12^2} = 9$  cm.

2 BODA

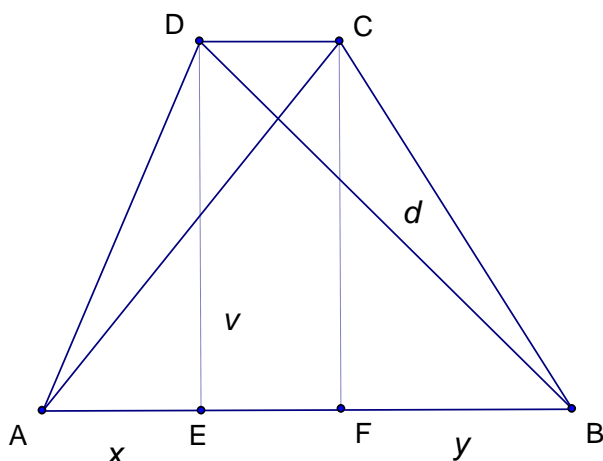
Kako je  $d(A,F) + d(F,E) = d(A,E) = d(A,B) + d(B,E) = a + c = 5 + 9 = 14$  cm,

površina trapeza je  $P = \frac{a+c}{2} \cdot v = 84 \text{ cm}^2$ .

2 BODA

..... UKUPNO 10 BODOVA

Drugi način:



Skica:

1 BOD

Zadana se jednačba može zapisati u obliku  $d^2 - 30d + v^2 - 24v + 369 = 0$

odnosno nadopunom na potpuni kvadrat  $(d - 15)^2 - 225 + (v - 12)^2 - 144 + 369 = 0$

i konačno  $(d - 15)^2 + (v - 12)^2 = 0$ .

2 BODA

Lijeva strana jednačbe jednaka je 0 ako je  $d - 15 = 0$  i  $v - 12 = 0$ .

1 BOD

Iz  $d - 15 = 0$  slijedi da je  $d = 15$  cm, a

iz  $v - 12 = 0$  slijedi da je  $v = 12$  cm.

1 BOD

Neka su  $E$  i  $F$  nožišta visina iz vrhova  $D$  i  $C$  redom na osnovicu  $\overline{AB}$ .

Nadalje, neka je  $|AE| = x$  i  $|BF| = y$ , a  $|CD| = c$ ,  $|AB| = a$ .

Kako je četverokut  $EFCD$  pravokutnik, slijedi  $|EF| = c$ .

1 BOD

Primjenom Pitagorinog poučka na trokute  $\triangle DEB$  i  $\triangle AFC$  dobije se  $|BE| = \sqrt{15^2 - 12^2} = 9$  cm i

$|AF| = \sqrt{13^2 - 12^2} = 5$  cm.

2 BODA

Slijedi  $|BE| = c + y = 9$ ,  $|AF| = x + c = 5$ .

Zbrajanjem tih dviju jednakosti dobije se  $x + y + 2c = 14$  odnosno  $x + c + y + c = 14$ , tj.

$a + c = 14$ .

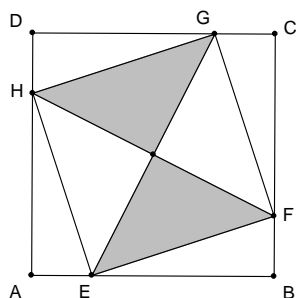
1 BOD

Površina trapeza je  $P = \frac{a+c}{2} \cdot v = 84$  cm<sup>2</sup>.

1 BOD

..... UKUPNO 10 BODOVA

5. Prvi način:



Neka je  $a$  duljina stranice kvadrata.

Tada je  $|AE| = |BF| = |CG| = |DH| = \frac{1}{4}a$ ,  $|BE| = |CF| = |DG| = |AH| = \frac{3}{4}a$ . 1 BOD

Trokuti  $\triangle HAE$ ,  $\triangle EBF$ ,  $\triangle FCG$  i  $\triangle GDH$  su međusobno sukladni (pravokutni trokuti sa sukladnim stranicama duljina  $\frac{1}{4}a$  i  $\frac{3}{4}a$ , prema poučku S-K-S o sukladnosti). 1 BOD

Iz sukladnosti tih trokuta slijedi  $|FE| = |GF| = |HG| = |EH| = x$ . 1 BOD

Promotrimo trokut  $\triangle HAE$ .

Neka je  $|\angle AEH| = \alpha$  i  $|\angle EHA| = \beta$ . Vrijedi  $\alpha + \beta = 90^\circ$ .

Zbog sukladnosti trokuta  $\triangle HAE$  i  $\triangle EBF$  je  $|\angle BEF| = \beta$ .

Zato je  $|\angle HEF| = 180^\circ - (\alpha + \beta) = 180^\circ - 90^\circ = 90^\circ$ .

Na isti način može se pokazati da je  $|\angle EFG| = |\angle FGH| = |\angle GHE| = 90^\circ$ . 2 BODA

Četverokut  $EFGH$  je kvadrat jer ima sve stranice jednake duljine i sve kutove prave. 1 BOD

Zatamnjeni dio čini polovinu kvadrata  $EFGH$ .

Primjenom Pitagorinog poučka na trokut  $\triangle HAE$  dobivamo  $\left(\frac{1}{4}a\right)^2 + \left(\frac{3}{4}a\right)^2 = x^2$ . 1 BOD

Nakon kvadriranja i zbrajanja slijedi  $x^2 = \frac{5}{8}a^2$ . 1 BOD

Kako je  $a^2 = 80$ , (površina zadanog kvadrata), slijedi  $x^2 = \frac{5}{8} \cdot 80 = 50$ . 1 BOD

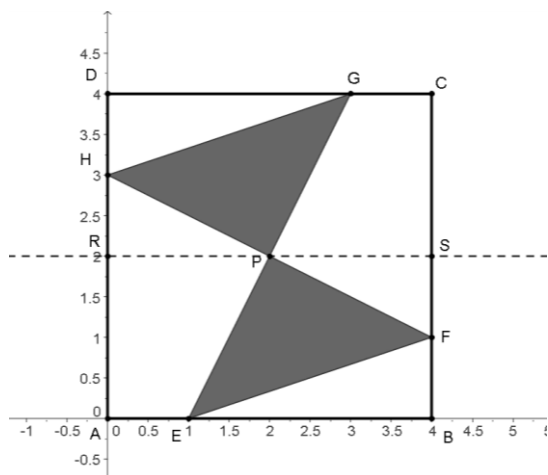
Površina kvadrata  $EFGH$  iznosi  $50 \text{ cm}^2$ , a zatamnjenog dijela  $25 \text{ cm}^2$ . 1 BOD

..... UKUPNO 10 BODOVA

**Napomena:** Rješenje bez dokaza da je četverokut  $EFGH$  kvadrat boduje se s najviše 6 bodova.

Drugi način:

Postavimo kvadrat  $ABCD$  u pravokutni koordinatni sustav kao na slici.



1 BOD

Neka je  $a$  duljina stranice kvadrata.

Tada je  $|AE| = |BF| = |CG| = |DH| = \frac{1}{4}a$ ,  $|BE| = |CF| = |DG| = |AH| = \frac{3}{4}a$ .

1 BOD

Vrijedi  $EG \equiv y = 2x - 2$  i  $FH \equiv y = -\frac{1}{2}x + 3$

2 BODA

pa točka  $P$  kao presjek tih pravaca ima koordinate  $P(2,2)$ .

1 BOD

Dalje je  $|HR| = |FS| = \frac{1}{4}a$  i  $|RP| = |PS| = \frac{1}{2}a$ .

1 BOD

Neka je  $P_1$  površina trokuta  $DHG$ ,  $P_2$  površina trokuta  $HRP$ ,  $P_3$  površina trapeza  $CGPS$ ,

$P_K$  površina kvadrata  $ABCD$  i  $P$  površina zatamnjenog dijela.

Vrijedi  $P_1 = \frac{\frac{a}{4} \cdot \frac{3a}{4}}{2} = \frac{3}{32}a^2 = 7.5 \text{ cm}^2$ ,  $P_2 = \frac{\frac{a}{4} \cdot \frac{a}{2}}{2} = \frac{1}{16}a^2 = 5 \text{ cm}^2$  i

$P_3 = \frac{\frac{a}{4} + \frac{a}{2}}{2} \cdot \frac{a}{2} = \frac{3}{16}a^2 = 15 \text{ cm}^2$ .

3 BODA

S obzirom da je slika centralnosimetrična s obzirom na točku  $P$ , vrijedi

$P = P_K - 2 \cdot (P_1 + P_2 + P_3) = 80 - 2 \cdot 27.5 = 25 \text{ cm}^2$ .

1 BOD

..... UKUPNO 10 BODOVA